

Prénom :

SSE











Les tracés laissés par des objets sont des formes géométriques.

Écris le nom des formes sur les

Quelles formes les empreintes des objets peuvent-elles laisser ?

Trace des croix.

Quand c'est possible, **repasse** à la latte les contours :

- des **rectangles** en bleu;
- des **disques** en orange;
- des **carrés** en rouge;
- des **triangles** en vert.



Que constates-tu ? **Colorie** les disques en orange.

Colorie l'intérieur des formes.

J'ai observé



Trace des croix dans le tableau.

	TRIANGLE	CARRÉ	RECTANGLE
Tous les côtés tracés à la latte			
3 côtés			
4 côtés			
Toujours tous les côtés =			
Parfois tous les côtés =			


Prénom :

OPERA



Je sais calculer et je comprends le sens des 4 opérations.


Choisis le signe : $-$, $:$, $+$ ou \times .




$$6 \dots\dots 3 = 2$$



$$4 \dots\dots 3 = 7$$



$$4 \dots\dots 3 = 12$$



$$7 \dots\dots 3 = 4$$

Observe le dessin, colorie le signe qu'il représente et écris le calcul ainsi que la réponse sur les pointillés.



$$\rightarrow \boxed{+} \quad \boxed{-} \quad \dots\dots\dots = \dots\dots$$



$$\rightarrow \boxed{+} \quad \boxed{-} \quad \dots\dots\dots = \dots\dots$$



$$\rightarrow \boxed{+} \quad \boxed{-} \quad \dots\dots\dots = \dots\dots$$



$$\rightarrow \boxed{+} \quad \boxed{-} \quad \dots\dots\dots = \dots\dots$$



$$\rightarrow \boxed{+} \quad \boxed{-} \quad \dots\dots\dots = \dots\dots$$



→ $\boxed{+}$ $\boxed{-}$ =



→ $\boxed{+}$ $\boxed{-}$ =





→ $\boxed{+}$ $\boxed{-}$ =



→ $\boxed{+}$ $\boxed{-}$ =

Ecris les réponses dans le dessin. Si tu le souhaites, colorie en utilisant le code.



 Colorie de la bonne couleur.

