


Prénom : .....

Date : .....

**MESURE**


# Lire l'heure...

- Dans une journée il y a .....heures.
- Dessine les deux aiguilles sur les horloges suivantes :




00 : 00

**il est minuit**




06 : 00

il est 6 heures du  
matin




08 : 30

il est 8 heures et  
demie du matin




09 : 00

il est 9 heures du  
matin




10 : 15

il est 10 heures et  
quart




11 : 45

il est midi moins le  
quart




12 : 15

il est midi et quart




15 : 00

il est 3 heures de  
l'après-midi




16 : 30

il est quatre  
heures et demie




20 : 50

il est 9 heures  
moins 10



22 : 00

il est 10 heures du  
soir



00 : 00

**il est .....**