

Classe : 1^{ère} année

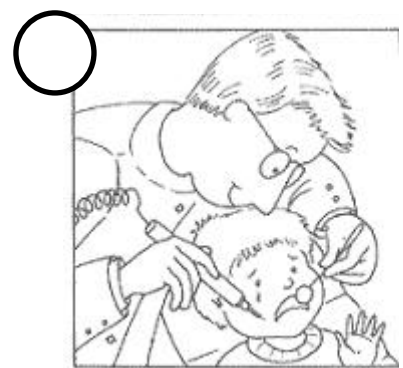



Date : / /

Prénom :



Jeu logique : devoir

1. Numérote les images dans le bon ordre.



2. . Dans le dessin de droite, il y a 7 erreurs. Entoure-les en vert.



3. Dans le dessin suivant, il y a 12 anomalies. Entoure-les en vert.

